

وزارة التربية

الإدارة العامة لمنطقة الفروانية التعليمية

مدرسة رقية بنت محمد المتوسطة بنات

أنشطة وتدريبات  
الكويت والوطن العربي  
لعام ٢٠١٦ / ٢٠١٧م  
الفصل الدراسي الأول



إعداد الأستاذة : جلييلة الدغيم

- الوطن العربي : مساحة واسعة من الأرض تمتد ضمن قارتي آسيا و أفريقيا ويرتبط بالقارات الكبرى الثلاث .
- الموقع الاستراتيجي للوطن العربي : هو أي موقع ذات مكانة مهمة بين دول العالم
- المسطحات المائية : جميع أشكال المياه على سطح الأرض مثل المحيطات و البحار
- المياه الجوفية : المياه التي توجد في باطن الأرض
- لقناة مجرى مائي صناعي ضيق يشق لأغراض الري و النقل
- المضيق : ممر مائي ضيق يصل بين بحرين أو محيطين
- الموقع الفلكي : هو نقطة من الكرة الأرضية يتحدد موقعها بالنسبة لدوائر العرض و خطوط الطول .
- الموقع النسبي : الموقع بالنسبة لليابس و الماء .
- خطوط الطول : هي عبارة عن خطوط وهمية طولية ترسم على الكرة الأرضية تقسمها شرقي و غربي
- دوائر العرض : هي عبارة عن خطوط وهمية عرضية ترسم حول الكرة الأرضية وتقسمها شمالي و جنوبي
- التضاريس : هي أشكال الأرض من مرتفعات و منخفضات
- السهول : مساحة من سطح الأرض تتميز باستوائها و قلة ارتفاعها .
- السهول الفيضية ( النهرية ) : هي الأراضي المنخفضة التي تكونت من التربة التي حملتها مياه الأنهار
- السهول الساحلية: هي الأراضي المنبسطة التي تجاور سواحل البحار والمحيطات
- الجبل : هو كل ما ارتفع من الأرض له قمة لا يقل عن ١٠٠٠ متر
- الهضبة : ارض مرتفعة سطحها مستو و تمتد على مساحة كبيرة
- الضغط الجوي : وزن الهواء فوق أي مكان .
- الطقس : هو حالة الجو في مكان ما لمدة قصيرة .
- المناخ : حالة الجو خلال فترة زمنية طويلة .
- الإقليم : يعنى منطقة أو مكان مثل الإقليم الصحراوي .
- النبات الطبيعي : النبات الذي ينمو تلقائيا لسقوط الأمطار دون أن يتدخل الإنسان في سوره .
- الحشائش الحارة ( السافانا ) : هي حشائش طويلة تنمو عليها الماشية وتنتشر في جنوب ووسط السودان
- والصومال وجيبوتي
- حشائش ( الاستبس ) : هي أعشاب قصيرة نوعا ما ويربى عليها الأغنام والماعز والخيول والإبل والحمير
- النهر : هو مجرى مائي عذب ينحدر على الدوام لينتهي إلى بحر أو نهر آخر أو ينتهي تدريجيا في الصحراء
- البحيرة : هو مسطح مائي تحيط به اليابسة من جميع الاتجاهات
- الأفلاج : هو الماء الجاري وهو مجرى صغير مائي في الأرض
- الحضارة : هو كل ما يطرأ على المجتمع من تقدم و تطور ورقي في جميع نواحي الحياة .
- الديانة اليهودية : هي التي نزلت على سيدنا موسى عليه السلام و كتابها التوراة
- الديانة المسيحية : هي التي نزلت على سيدنا عيسى بن مريم عليه السلام و كتابها الإنجيل
- الديانة الإسلامية : يعتبر الإسلام خاتمة الرسالات السماوية جميعا ونزول القرآن الكريم على سيدنا محمد صلى الله عليه وسلم في مكة المكرمة
- حمو رابي : هو ملك بابلي
- أوال : هو اسم يطلق على البحرين في مرحلة النفوذ الفارسي نسبة إلى صنم أسمه أوال كانت تعبده قبيلة وائل التي حكمت البحرين
- هرم سقارة المدرج : : اول هرم تم بناؤه في تاريخ الحضارة المصرية
- البعث و الخلود : عودة الروح للجسد بعد الموت



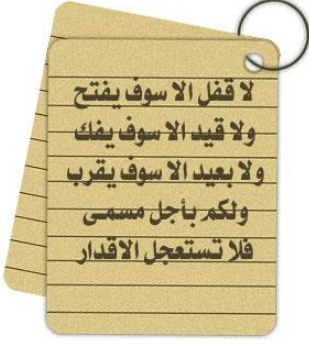
## علل لما يأتي " اذكر السبب " :

<p>لأهمية موقع الوطن العربي الاستراتيجية ولأنه يتحكم في منافذ التجارة العالمية - يطل على ثلاث مسطحات مائية ذات أهمية للملاحة والتجارة العالمية</p>	<p>١- تنافس الدول الاستعمارية في الاستيلاء على الوطن العربي منذ القرن الثامن عشر الميلادي(الجغرافية )</p>
<p>لأنها منطقة عبور لحركة الملاحة والتجارة العالمية - لظهور النفط بكميات كبيرة</p>	<p>٢- الوطن العربي يملك أهمية اقتصادية .</p>
<p>قامت على ارض الوطن العربي حضارات عديدة - هبطت على أرضه الديانات السماوية الثلاثة</p>	<p>٣- للوطن العربي اهمية حضارية و ثقافية</p>
<p>سهولة في الحركة او التنقل - توفر مقومات الحياة وقيام الانشطة الاقتصادية . توافر المياه العذبة و التربة الخصبة و اعتدال المناخ</p>	<p>٤ - تركز السكان في السهول الفيضية ( النهرية ) في الوطن العربي</p>
<p>لانجراف التربة من مياه الأنهار ولاحتوائها على العديد من المواد العضوية الغنية</p>	<p>٥- تعتبر تربة السهول الفيضية من أكثر أنواع التربة خصبة</p>
<p>بسبب نوع التربة و المناخ و الامطار</p>	<p>٦- تنوع النبات الطبيعي في الوطن العربي</p>
<p>- وذلك بسبب القرب او البعد عن خط الاستواء</p>	<p>٧- الأماكن القريبة من خط الاستواء تتميز بارتفاع درجة حرارتها على مدار أيام السنة</p>
<p>لان الشمس تكون عمودية على المنطقة الواقعة بين خط الاستواء و مدار السرطان</p>	<p>٨- ارتفاع الحرارة في وسط الوطن العربي صيفا</p>
<p>لان الشمس تكون عمودية على المنطقة الواقعة بين خط الاستواء و مدار الجدي.</p>	<p>٩- ارتفاع الحرارة جنوب الوطن العربي شتاء</p>
<p>لعدم وجود أنهار كثيرة - قلة الأمطار فيها</p>	<p>١٠- المياه العذبة في الوطن العربي قليلة</p>
<p>لتوافر المياه والأرض الصالحة للزراعة</p>	<p>١١- يزدحم السكان في مصر حول نهر النيل ؟</p>
<p>كمية الامطار</p>	<p>١٢- اختلاف أنواع حشائش السافانا في دول الوطن العربي .</p>
<p>- نظرا لتوافر مقومات قيام الحضارة</p>	<p>١٣- الوطن العربي مركزا للحضارات المختلفة عبر التاريخ</p>
<p>- الموقع الجغرافي المميز الهام - اعتدال المناخ - وفرة المياه العذبة فيها</p>	<p>١٤- استقرت الحضارات المختلفة في وطننا العربي</p>
<p>- بسبب انتشار الشرائع القانونية</p>	<p>١٥- انتشار الأمن والأمان في حضارة بلاد الرافدين</p>
<p>- لتوفر الأرض الخصبة وكذلك توافر المياه والمناخ المعتدل</p>	<p>١٦- اعتبرت شبه الجزيرة العربية الموطن الأصلي للجماعات السامية التي هاجر الكثير منها إلى جهة الشمال والشمال الشرقي منها</p>
<p>- بسبب توافر المياه العذبة - المناخ المناسب لقيام الزراعة - الموقع الذي يسمح بقيام النشاط التجاري فيها</p>	<p>١٧- تعتبر منطقة جنوب شبه الجزيرة العربية من أكثر مناطق شبه الجزيرة العربية ملائمة لقيام الحضارة</p>
<p>لموقعها وسط الخليج العربي - كانت مركزا مهما للمواصلات والتجارة البحرية</p>	<p>١٨- تعتبر حضارة دلمون مركزا مهما للمواصلات البحرية</p>
<p>لإيمانهم بمعتقدات البعث والخلود</p>	<p>١٩- اهتمام المصريون بتحنيط الجثث وبناء المقابر</p>
<p>سيطرت الكنيسة على عقول الناس</p>	<p>٢٠- عاشت اوربا في عصور الظلام</p>



١- عددي مقومات الهوية العربية	أ- الدين ب- اللغة ج- الأهداف المشتركة د- وحدة التراث
٢- أذكر جبال الوطن العربي	أتم سلسلة جبال أطلس في المغرب العربي ب- سلسلة جبال البحر الأحمر ج- سلسلة جبال بلاد الشام د- مجموعة الجبال المتفرقة مثل جبال عمان
٣- عددي الهضاب في الوطن العربي؟	أ- هضبة شبة الجزيرة العربية و بلاد الشام ب- هضبة ( الصحراء الكبرى )
٤- عناصر المناخ ؟	أ- الرياح ب- درجات الحرارة ج- الضغط الجوي د- الأمطار
٥- العوامل التي تؤثر في مناخ الوطن العربي	أتم الموقع بالنسبة لدوائر العرض ب- القرب أو البعد من خط الاستواء ج- التضاريس د- الرياح
٦- ما أنواع الحياة النباتية في الوطن العربي؟	أ- الغابات ب- الحشائش ج- النباتات الصحراوية
٧- ماهي طرق مقاومة النباتات الصحراوية للجفاف	أ- أن تكون ذات جذور طويلة ب- أن تكون لها قدرة على خزن المياه ج- قسم يخزن المياه في سيقانه د - بعضها يحمي نفسه بلحاء سميك و أوراق أبرية
٨- ما هي مصادر المياه المتوفرة في الوطن العربي	الأنهار - الأمطار - البحر - الآبار - الأفلاج
٩ - أذكر صفات الأمطار في الوطن العربي	- تذبذب كمية الأمطار بين عام وأخر - تكاد تقتصر على الأطراف الشمالية والجنوبية - تتصف بأنها قليلة بصفة عامة
١٠ - أذكر أنواع مصادر المياه الجوفية	- الآبار - الأفلاج - العيون - الينابيع
١١- كيف تساعد المياه الجوفية على استقرار السكان	- قيام الزراعة - تربية الماشية - قيام أنشطة اقتصادية
١٢- ماهي جهود الحكومات في دول الخليج العربي للمحافظة على المياه .	إنشاء سدود على الأنهار والأودية - التنقيب والبحث عن المياه الجوفية
١٣- أذكر أهم الحضارات القديمة التي قامت في وطننا العربي ؟	١- الحضارة المصرية القديمة ٢- حضارة بلاد الرافدين ٣- حضارة بلاد الشام ٤- حضارة شبه الجزيرة العربية ( حضارة دلمون - حضارة بلاد اليمن )
١٤ - أذكر مقومات قيام الحضارة ؟	- الموقع الاستراتيجي - توافر مصادر المياه العذبة - اعتدال المناخ - توافر الثروات الطبيعية - توافر العنصر البشري
١٥- عددي مراكز الإشعاع التي انتقلت الحضارة العربية إلى قارة أوروبا بفضلها	- الأندلس - جزيرة صقلية - بلاد الشام
١٦ - ماهي وظيفة المحتسب في الإسلام ؟	هو الذي يقوم بمراقبة السلع في الأسواق
١٧- اذكر أهم الأنهار التي توجد في الوطن العربي	نهر النيل ( مصر ) - نهر دجلة والفرات ( العراق ) جوبا في الصومال
١٨ عددي مراكز الإشعاع التي انتقلت الحضارة العربية إلى قارة أوروبا بفضلها	- الأندلس - جزيرة صقلية - بلاد الشام
١٩- عددي الاسس التي بنيت عليها الحضارة العربية الاسلامية	الصلاة ومواقبتها - الصوم - الزكاة

١٩- اذكر اهم صادرات وواردات التجارة في حضارة بلاد الرافدين	صادرات : منسوجات - الصوف الواردات : المعادن والاحجار والأخشاب
٢٠ - اكتب ما تعرفين من خلال دراستك عن شرائع حمورابي	أتم وضعها ملك بابل حمورابي بتم عددها ٢٨٢ مادة قانونية تتم مبدأها السن بالسن والعين بالعين شتم ادى تطبيقها الي انتشار الامن والأمان
٢١- عددي اهم الهجرات السامية التي نزحت من شبه الجزيرة العربية	العمريون - كنعانيون - الأراميون
٢٢- اذكر المظاهر الحضارية لحضارة بلاد اليمن	اشتهروا بالمشاريع الزراعية واشهرها سد مأرب اهل اليمن هم أسياذ التجارة العربية عرفو الكتابة الابجدية بخط المسند
٢٣- حددي الخصائص العامة لحضارة اليمن	المشاريع الزراعية والتجارية
٢٤- اعطي دليل علي اشتهار سكان حضارة بلاد اليمن بالمشاريع الزراعية	بناء السدود تنظيم عمليات الري
٢٥- اذكر الديانات السماوية التي اكسبت الوطن العربي مكانة روحية مقدسة	الديانة الاسلامية - الديانة اليهودية - الديانة المسيحية
٢٦- كيف يؤثر القرب والبعد عن المسطحات المائية في المناخ	الاماكن القريبة من المسطحات المائية تقل فيها درجة الحرارة صيفا والبرودة شتاء كما ان المياه تعمل على تلطيف درجة الحرارة للمناطق القريبة منها
٢٧- بم تفسر تتميز الاماكن القريبة من خط الاستواء بارتفاع درجة الحرارة	بسبب تعامد اشعة الشمس عليها طوال العام
٢٨- بم تفسر للرياح تأثير في المناخ من ناحية ارتفاع وانخفاض الحرارة	لان الرياح تكتسب صفة المنطقه التي تهب فيها
٢٩ - عدد العلوم والفنون التي برعوا فيها المصريون القدماء	- الطب - الفلك - الكيمياء - التحنيط - النحت - الكتابة - البناء
٣٠- اذكر اهم أسماء الحضارات التي قامت في بلاد الرافدين	- السومريون - الأكاديون - البابليون - الأشوريون - الكلدانيون
٣١- اذكر اسباب ازدهار الزراعة في بلاد الرافدين	- موقعها الممتاز - خصوبة التربة - وفرة المياه العذبة
٣٢- اذكر اهم الأنشطة الاقتصادية لحضارة دلمون	- الزراعة - صيد الأسماك - الغوص على اللؤلؤ



- ١- يمتد الوطن العربي ضمن قارتي آسيا و أفريقيا .
- ٢- تبلغ مساحة الوطن العربي ١٤ مليون / كم .
- ٣- جمهورية جزر القمر دولة عربية عاصمتها موروني .
- ٤- يضم الوطن العربي ٢٢ دولة عربية .
- ٥- هضبة نجد تقع في دولة اسمها السعودية .
- ٦- هضبة الشطوط تقع في دولة عربية اسمها الجزائر .
- ٧- أعلى قمة جبل عربية هي طوبقال .
- ٨- يجرى نهري جوبا و شبيلي في دولة الصومال .
- ٩- تعرف حشائش الاستبس في بلاد المغرب باسم الحلفا .
- ١٠- خطوط الطول يبلغ عددها ٣٦٠ خطا .
- ١١- دوائر العرض يبلغ عددها ١٨٠ دائرة .
- ١٢- خط الأساس لدوائر العرض هو خط الاستواء .
- ١٣- خط الأساس لخطوط الطول هو خط جرينتش .
- ١٤- يختلف نوع حشائش السافانا حسب كمية الأمطار .
- ١٥- تعتبر الأهرامات مظهر من مظاهر الحضارة المصرية القديمة
- ١٦ - عرفت الكتابة المصرية القديمة باسم الهير و غليقية
- ١٧ - السومريون هم أقدم شعوب بلاد الرافدين ومن أشهر مدنها مدينة أور
- ١٨ - الأكاديون هم من القبائل السامية وعاصمتها هي أكد
- ١٩ - أشهر ملوك البابليون هو حمورابي
- ٢٠- من أشهر ملوك الأشوريين هو أشور بنينال
- ٢١- من أشهر ملوك الكلدانيون هو نبوخذ مصر
- ٢٢- اخترع السومريون كتابة باسم المسمارية
- ٢٣- تقع دولة حمير جنوب اليمن
- ٢٤- عاصمة دولة معين مدينة اسمها قرناو
- ٢٥- أهم الأعمال الشهيرة للملك حمورابي هي شريعة حمورابي
- ٢٦- تقع دولة سبأ في وسط اليمن
- ٢٧- أشهر ملوك سبأ الملكة بلقيس
- ٢٨- ظهرت شرائع قانونية قديمة من أهمها شريعة حمورابي في بلاد الرافدين
- ٢٩- الخط الذي كانت تكتب به الأبجدية في حضارة جنوب غرب شبه الجزيرة العربية هو المسند
- ٣٠- يحد حضارة جنوب غرب شبه الجزيرة العربية من جهة الغرب البحر الاحمر
- ٣١- من أهم معالم دولة سبأ هو سد مأرب
- ٣٢- عرفت دلمون بأنها أرض مقدسة عثر على بقايا معبد باربار .
- ٣٣- عدد الدول العربية في الجناح الأفريقي ( ١٠ دول )
- ٣٤- عدد الدول العربية في الجناح الآسيوي - ( ١٢ دولة )
- ٣٥- الدائرة العرضية الرئيسية التي تقسم الارض إلى قسمين شمالي وجنوبي هو خط الاستواء
- ٣٦ - مصدر المياه الجوفية هو المطر
- ٣٧- اسم الحملة الكويتية التطوعية الخاصة بترشيد استهلاك المياه هي حملة ترشيد
- ٣٨ - خط الطول الرئيسي ويقسم الكرة الأرضية طوليا هو خط جرينتش
- ٣٩- الرابطة الأساسية التي ربطت أجزاء الدول الاسلامية ببعضها هي اللغة العربية .

SUCCESS

النجاح لا يأتيك ..

بل ترقب إليه !!

## أجب عن الأسئلة التالية :



- ٢- القارة المجاورة لقارتي آسيا وأفريقيا قارة أوروبا
- ٣- يقع الوطن العربي بالنسبة لقارات العالم في وسط العالم
- ٤- المحيطات التي تمر بها التجارة العالمية هما المحيط الهندي و المحيط الأطلسي
- ٥- أين تتصل قارة أفريقيا بقارة اسيا شبه جزيرة سيناء
- ٦- الدولة العربية التي تتكون من مجموعة جزر تسمى جزر القمر
- ٧- أكبر الدول العربية في الجناح الآسيوي هي السعودية
- ٨- أكبر الدول العربية في الجناح الأفريقي هي السودان
- ٩- مساحات الجناح الأفريقي أكبر من مساحات الجناح الآسيوي
- ١٠- المسطح المائي الذي يحد الوطن العربي من الغرب يسمى المحيط الأطلسي
- ١١- عرفت حضارة اليمن الأبجدية وكانت تتكون من (٢٩) حرف
- ١٢- تعد شريان الملاحة العالمية الرئيسية وتتحكم في طريق الملاحة العالمية هي قناة السويس
- ١٣- هضبة بادية الشام تقع في الأردن و سوريا و العراق
- ١٤- بلغ عدد حروف الكتابة المسماوية ( ٦٠٠ ) حرف
- ١٥- من أكثر أشكال التضاريس في الوطن العربي انتشارا هي الهضاب
- ١٦- انضمت جمهورية جزر القمر إلى الجامعة العربية عام ١٩٩٣ وعاصمتها مدينة تسمى موروني
- ١٧- تبلغ مساحة الوطن العربي حوالي ١٤ مليون كم<sup>٢</sup>
- ١٨- تمثل مساحة الوطن العربي حوالي ١٠ ٪ من مساحة العالم
- ١٩- يصل بين البحر المتوسط والمحيط الأطلسي مضيق يسمى جبل طارق
- ٢٠- أعلى قمة جبل عربية تسمى طوبقال وتقع في جبال أطلس
- ٢١- كل مرتفع من الأرض يزيد ارتفاعه عن ١٠٠٠ متر وله قمة مفهومة يسمى الجبل
- ٢٢- تعرف حشائش الاستبس في بلاد المغرب العربي باسم حلفا
- ٢٣- ينفصل الجناح العربي الآسيوي عن الجناح العربي الأفريقي عن طريق البحر الأحمر
- ٢٤- تعرف الرياح المحلية في ليبيا تعرف باسم قيلي
- ٢٥- تقع قناة السويس في دولة عربية هي مصر
- ٢٦- أنزلت الديانة اليهودية على نبي الله موسى في صحراء سيناء
- ٢٧- اخترع السومريون نوعا من الكتابة عرفت باسم الكتابة المسمارية
- ٢٨- تكتب الكتابة المصرية القديمة على نبات يسمى البردي
- ٢٩- تشرف دولة المغرب على مضيق يسمى (جبل طارق )
- ٣٠- أنزلت الديانة المسيحية على نبي الله ( عيسى ) في فلسطين
- ٣١- أشهر ملوك سبأ وورد ذكرها في القرآن ( يلقيس )
- ٣٢- أهم المعابد في حضارة دلمون ( يلرلار )
- ٣٣- تغطي الغابات مساحة صغيرة من الوطن العربي حوالي ( ٥ ٪ )
- ٣٤- أول هرم تم بنائه في تاريخ الحضارة المصرية هو ( سقارة )
- ٣٥- اسم الرياح المحلية التي تهب على السودان ( الهبوب )
- ٣٦- تقع جبال تبستي في دولة ( ليبيا )
- ٣٧- تمتد جزر القمر بين دائرتي عرض ( ١١/١٣ ) درجة جنوب خط الاستواء

ضع دائما صورتك التي تريد أن تكون عليها في عقلك و مخيلتك ، و ستتجه تدريجيا نحوها ... إذا لم تهزم نفسك ، ستهزمك نفسك ... سلم النجاة لا يعاني من الازدحام في اعلاه



## صنفي المعلومات في الجداول التالية :

صنفي الأهمية حسب موقعها في الجدول

الأهمية الاقتصادية	الأهمية الجغرافية	الأهمية الحضارية
ظهور النفط بكميات كبيرة	موقع المتوسط بين قارات العالم الثلاث	قيام الحضارات القديمة
منطقة للعبور وحركة الملاحة والتجارة العالمية	يطل على مسطحات مائية	نزول الديانات السماوية الثلاث
	يتحكم في منافذ التجارة العالمية	

صنفي الأسماء التالية موقعها في الجدول:

الديانة	الكتاب	النبي
الاسلام	القرآن الكريم	محمد (ص)
المسيحية	الانجيل	عيسى
اليهودية	التوراة	موسى

المعيار	البابليون	الأكاديون	الاشوريون	كلدانيون
الملك	حمورابي	سرجون	آشور بنيبال	نبوخذ نصر
المدن	بابل	اكّد	آشور	بابل

وجه المقارنة	دوائر العرض	خطوط الطول
خط الاساس	الاستواء	جرينتش
العدد	١٨٠	٣٦٠
الأهمية	معرفة احوال المناخ	معرفة الوقت

الدولة	محطات تحلية المياه
السعودية	الاحساء
قطر	رأس عبود - فنطاس
الكويت	الشويخ



المعيار	الغابات المدارية	الغابات المعتدلة
مميزاتها	ضخامة الجذوع - متشابكة الأغصان - ارتفاعها الكبير - اوراق عريضة	عدم كثافتها - دائمة الخضرة - يتساقط بعضها في الشتاء
اهم الاشجار	الساج - التاك - الابنوس - الاثل - السنط - السدر - تمر هندي - مرو - عرفج - الجوز - التوت - البشم - الماهو جني	أرز - عرعر - صنوبر - فلين - بلوط - سنديان - فواكه - وحمضيات - الزيتون النفاح

فرقي بين أهم المظاهر الحضارية في الحضارات التالية : + صور المعالم ص ٥٢ :

أهم المظاهر الحضارية	حضارة المصرية القديمة	حضارة بلاد الرافدين	حضارة بلاد اليمن
الحياة الاقتصادية	الزراعة - الصناعة - تربية الماشية	الزراعة - الصناعة - التجارة	الزراعة - التجارة
المعتقدات الدينية	آمنو بفكرة البعث والخلود	اعتمدوا تطبيق شرائع حمورابي	.....
العلوم والفنون	الفلك - الطب - الكيمياء - البناء	الهندسة - الحساب - الفلك	
الكتابة	الكتابة الهيروغليفية	الكتابة المسمارية	الكتابة الابدجية

طبق مقومات قيام الحضارة على كل من الحضارات القديمة :

مقومات قيام الحضارة	حضارة المصرية القديمة	حضارة بلاد الرافدين	حضارة بلاد اليمن	حضارة دلمون
الموقع الاستراتيجي	تطل على البحر الأحمر و علي البحر المتوسط	يطل على الخليج العربي	تطل على البحر الأحمر و علي بحر العرب	تقع وسط الخليج العربي
مصادر المياه العذبة	نهر النيل	نهري دجلة والفرات	المياه الجوفية	المياه العذبة
توافر الثروات الطبيعية	امتداد الصحراء خصوبة التربة الصخور - المعادن	خصوبة التربة	خصوبة التربة	خصوبة التربة الأسماك - اللؤلؤ

انتبهي للصور في الكتاب المدرسي ص ٥٥ + ص ٦٠



الرغبة  
+  
الإيمان  
=  
النجاح

الممر المائي	البحار والخلجان والمحيطات التي يصلها
مضيق هرمز	يصل بين الخليج العربي وخليج عمان
مضيق جبل طارق	يصل بين البحر المتوسط والمحيط الاطلسي
مضيق باب المندب	يصل بين البحر الاحمر وخليج عدن
قناة السويس	يصل بين البحر الاحمر والبحر المتوسط

اكمل البيانات الناقصة في الجدول :

جزر القمر	الدولة
اتحاد ٣ جزر	عدد الجزر
شمال غرب جزيرة مدغشقر	الموقع
١١ - ١٣ جنوب خط الاستواء	دوائر العرض
١٩٩٣م	تاريخ الانضمام للجامعة العربية

حمير	سبأ	معين	الدولة
ريدان	مأرب	قرناو	عاصمة
جنوب اليمن	وسط اليمن	شمال اليمن	الموقع

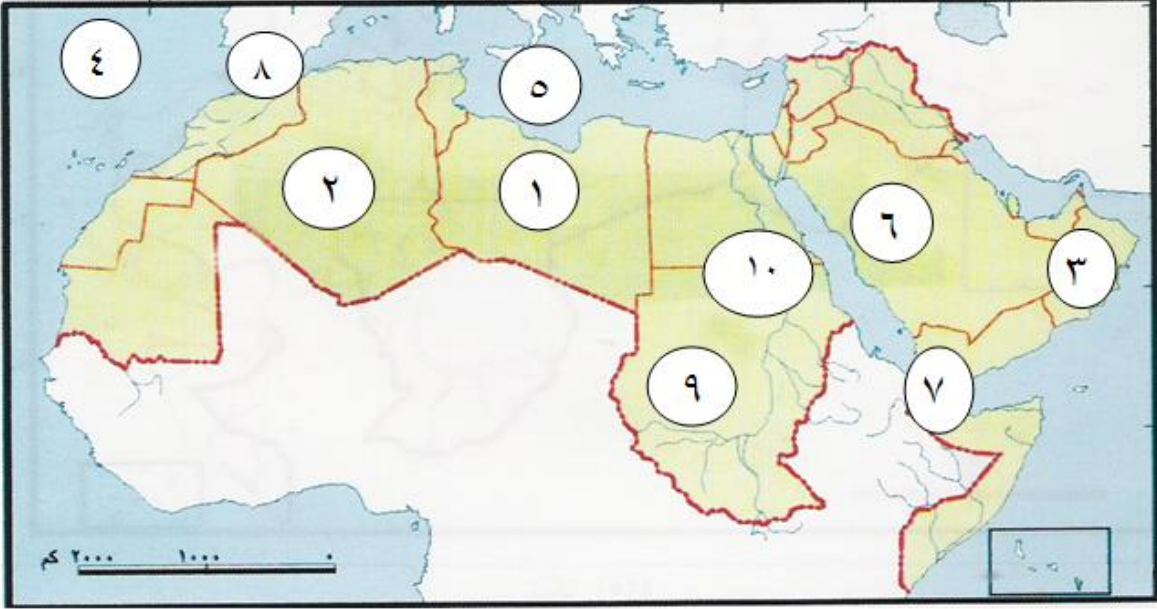
س- اكمل الجدول التالي الخاص بأنواع الرياح التي تهب على الدول العربية :

الدولة	اسم الرياح المحلية
مصر	الخماسين
الكويت	الطوز
ليبيا	القبلي
السودان	الهبوب
السعودية	سموم - طوز
العراق - بلاد الشام	الشرقية
الجزائر و المغرب	سيروكو - سيلانو

## خرائط مهمة

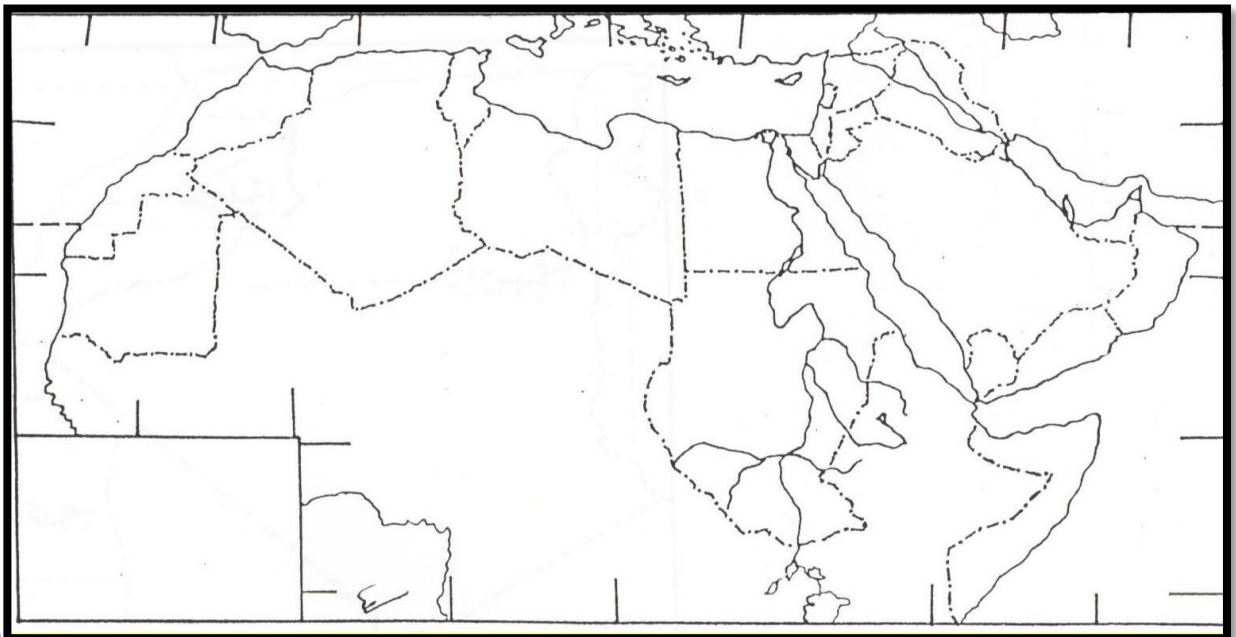
س ١ : على خريطة الوطن العربي الصماء نفذ ما يلي .

- يشير رقم ( ١ ) إلى دولة تسمى ليبيا .....
- يشير رقم ( ٣ ) إلى موقع جبل يسمى ..الأخضر ...
- يشير رقم ( ٥ ) إلى مسطح مائي يسمى ..البحر المتوسط ..
- يشير رقم ( ٧ ) إلى موقع مضيق يسمى . باب المندب ...
- يشير رقم ( ٩ ) إلى موقع جبل يسمى ... مرة ..
- يشير رقم ( ٢ ) إلى دولة تسمى .....الجزائر .....
- يشير رقم ( ٤ ) إلى مسطح مائي يسمى ..المحيط الأطلسي
- يشير رقم ( ٦ ) إلى موقع هضبة تسمى ..... نجد ....
- يشير رقم ( ٨ ) إلى موقع مضيق يسمى ..جبل طارق ....
- يشير رقم ( ١٠ ) إلى موقع نهر يسمى .... النيل .....

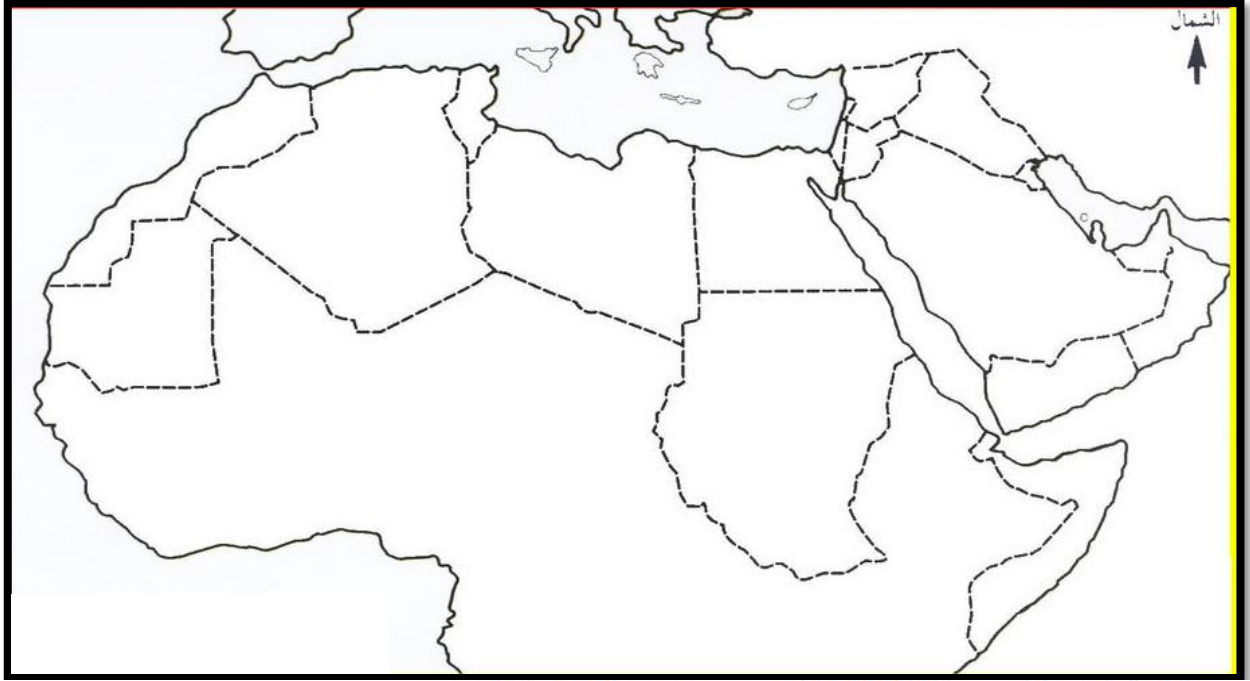


س ١ : على خريطة الوطن العربي الصماء نفذ ما يلي .

- يشير رقم ( ١ ) إلى دولة تسمى ليبيا .....
- يشير رقم ( ٣ ) إلى موقع جبل يسمى ..الأخضر ...
- يشير رقم ( ٥ ) إلى مسطح مائي يسمى ..البحر المتوسط ..
- يشير رقم ( ٧ ) إلى موقع مضيق يسمى . باب المندب ...
- يشير رقم ( ٩ ) إلى موقع جبل يسمى ... مرة ..
- يشير رقم ( ٢ ) إلى دولة تسمى .....الجزائر .....
- يشير رقم ( ٤ ) إلى مسطح مائي يسمى ..المحيط الأطلسي
- يشير رقم ( ٦ ) إلى موقع هضبة تسمى ..... نجد ....
- يشير رقم ( ٨ ) إلى موقع مضيق يسمى ..جبل طارق ....
- يشير رقم ( ١٠ ) إلى موقع نهر يسمى .... النيل .....



س ١ : على خريطة الوطن العربي الصماء نفذ ما يلي .



س أمامك خريطة صماء للوطن العربي حددي عليها مايلي :

- 1- المسطحات المائية البحرية الثلاثة التي يطل عليها الوطن العربي ( الأحمر - المتوسط - العربي )
- 2- المحيطان اللذان يطل عليهما الوطن العربي ( الهندي - الأطلنطي )
- 3- المضائق البحرية التي يطل عليها الوطن العربي ( هرمز - باب المندب - مضيق جبل طارق - )
- 4- قناة السويس
- 5- دولة الكويت
- 6- عمان
- 7- تونس
- 8- السودان
- 9- خط الطول الرئيسي
- 10- دائرة العرض الرئيسية
- 11- نهري جوبا و اشبيلي
- 12- جبال أطلس
- 13- حضارة بلاد اليمن
- 14- حضارة بلاد الشام
- 15- حضارة دلمون
- 16- نهر النيل
- 17- حضارة بلاد الرافدين
- 18- السهول الساحلية للخليج العرب ←
- 19- هضبة الشطوط

- أكمل رسم حدود الصومال علي الخريطة مستخدماً الرمز -----
- حدد موقع مضيق باب المندب علي الخريطة وضع عليه الرمز ●
- ارسم رياح الهبوب علي الخريطة مستخدماً الرمز ←
- حدد موقع البحر المتوسط وضع عليه الرمز ▲
- ارسمي نهر دجلة والفرات ونهر النيل
- جبال الوطن العربي ( تبستي - مرة - الاحجار - جبال اطلس - الاخضر ) هضبة نجد - هضبة الشطوط

